

令和6年度 一般選抜学力検査 問題

社 会

〔注意〕

- (1) 「はじめ」の合図があるまでは、この問題冊子を開いてはいけません。
この「注意」をよく読んでください。
- (2) 社会の検査時間は30分です。
- (3) 問題は1ページから12ページまであります。
解答用紙は1枚で、この問題冊子の中にはさんであります。
- (4) 受検番号と氏名をこの表紙と解答用紙に必ず記入してください。
- (5) 答えはすべて解答用紙に記入してください。また、語句で解答する問題については、教科書等に漢字で書かれているものはすべて漢字で答えてください。
- (6) 問題の内容についての質問には応じません。印刷のはっきりしないところがある場合には、静かに手をあげて係の先生に知らせてください。
- (7) 筆記用具などを落とした場合は、静かに手をあげて係の先生に知らせてください。

受検番号					
9	0	0			

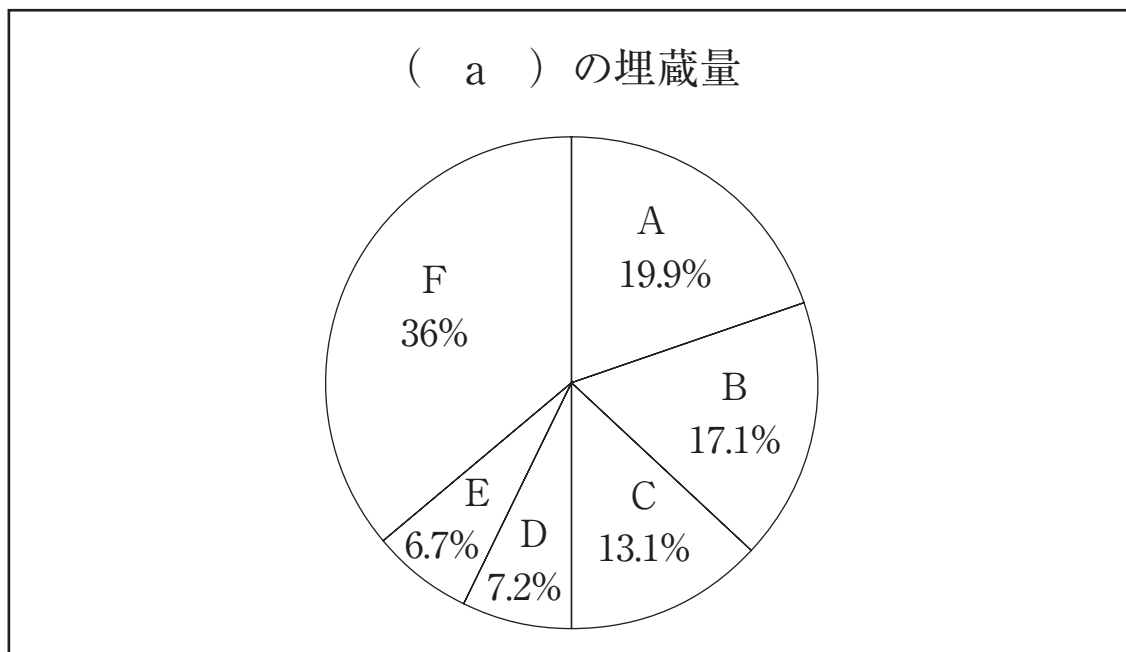
氏 名	
-----	--

- 1 次の、サッカーワールドカップの開催年・開催国・優勝国をまとめた【表】、ある資源の埋蔵量を示した【グラフ】、それらに関する【説明文】をみて、あとの問いに答えなさい。

【表】

開催年	開催国	優勝国
2002年	日本と1韓国	ブラジル
2006年	2ドイツ	7イタリア
2010年	3南アフリカ	8スペイン
2014年	4ブラジル	ドイツ
2018年	5ロシア	9フランス
2022年	6カタール	10アルゼンチン

【グラフ】



(「世界国勢図会 2023/24」より作成)

【説明文】

B はイラン、D はトルクメニスタン、F はそのほか当てはまる。
 C に当てはまる国は、【表】中の下線部6の国である。
 E に当てはまる国は、GDP が世界一位の国である。

問1 国際連合の主要機関に安全保障理事会があります。その安全保障理事会の常任理事国を、【表】中の1～10から全て選びなさい。

問2 1940年、日本と軍事同盟を結んだ国を、【表】中の1～10から2つ選びなさい。

問3 下線部1に関連して、日本が朝鮮半島を植民地支配していた期間について述べた文として正しいものを、次のア～エから1つ選びなさい。

ア 日本による統治は、1895年から1945年の期間で行われた。

イ 日本がアメリカ軍の物資援助をしたことで、朝鮮特需とくじゅがおこった。

ウ 日本は現地の人に対して創氏改名を行った。

エ 日朝修好条規を結び、朝鮮に関税自主権を認めなかった。

問4 下線部4の国に流れている川として正しいものを、次のア～エから1つ選びなさい。

ア ナイル川 イ ミシシッピ川 ウ アマゾン川 エ ドナウ川

問5 【表】中の国2・3・6・8・9・10とその首都の組み合わせとして正しいものはいくつあるか、次のア～オから1つ選びなさい。

2：ベルリン 3：カイロ 6：テヘラン 8：ローマ 9：パリ 10：ロンドン

ア 1つ イ 2つ ウ 3つ エ 4つ オ 5つ

問6 【グラフ】中の（ a ）に当てはまる資源として正しいものを、次のア～エから1つ選びなさい。

ア 石油 イ 鉄鉱石 ウ 天然ガス エ 石炭

問7 【グラフ】中のAに当てはまる国を、【表】中の1～10から1つ選びなさい。

- 2 次の文は、愛知県にある中部国際空港について述べた文です。これを読んで、あとの問いに答えなさい。

①中部国際空港（セントレア）は、②愛知県常滑市沖の伊勢湾海上にある、東海地方最大級の空港です。愛知万博の開催に合わせて、2005年に開港しました。「セントレア（centrair）」とは、③中部地方を意味する「セントラル（central）」と、空港を意味する「エアポート（airport）」を組み合わせたものです。

ここはアジアやヨーロッパなどの世界各国と日本各地を結ぶ拠点として、旅客便・④貨物便問わず、毎日たくさんの便が乗り入れています。

しかし、セントレアの魅力はなんと言っても、飛行機の利用以外にもレジャースポットが充実しているところです。レストラン街だけでなく、ショッピング街も大きく、なんと飛行機をながめることが出来るお風呂まであります。

- 問1 下線部①について、中部国際空港は何もない海上を一から埋め立ててつくられたという、世界でもめずらしい空港のひとつです。このような海上空港の良い点・悪い点について述べた文として誤っているものを、次のア～オから1つ選びなさい。

ア 騒音問題が軽減され、昼夜問わず離着陸りちやくりくが可能になることから、夜間の貨物便や国際線の便数を増やすことができる。

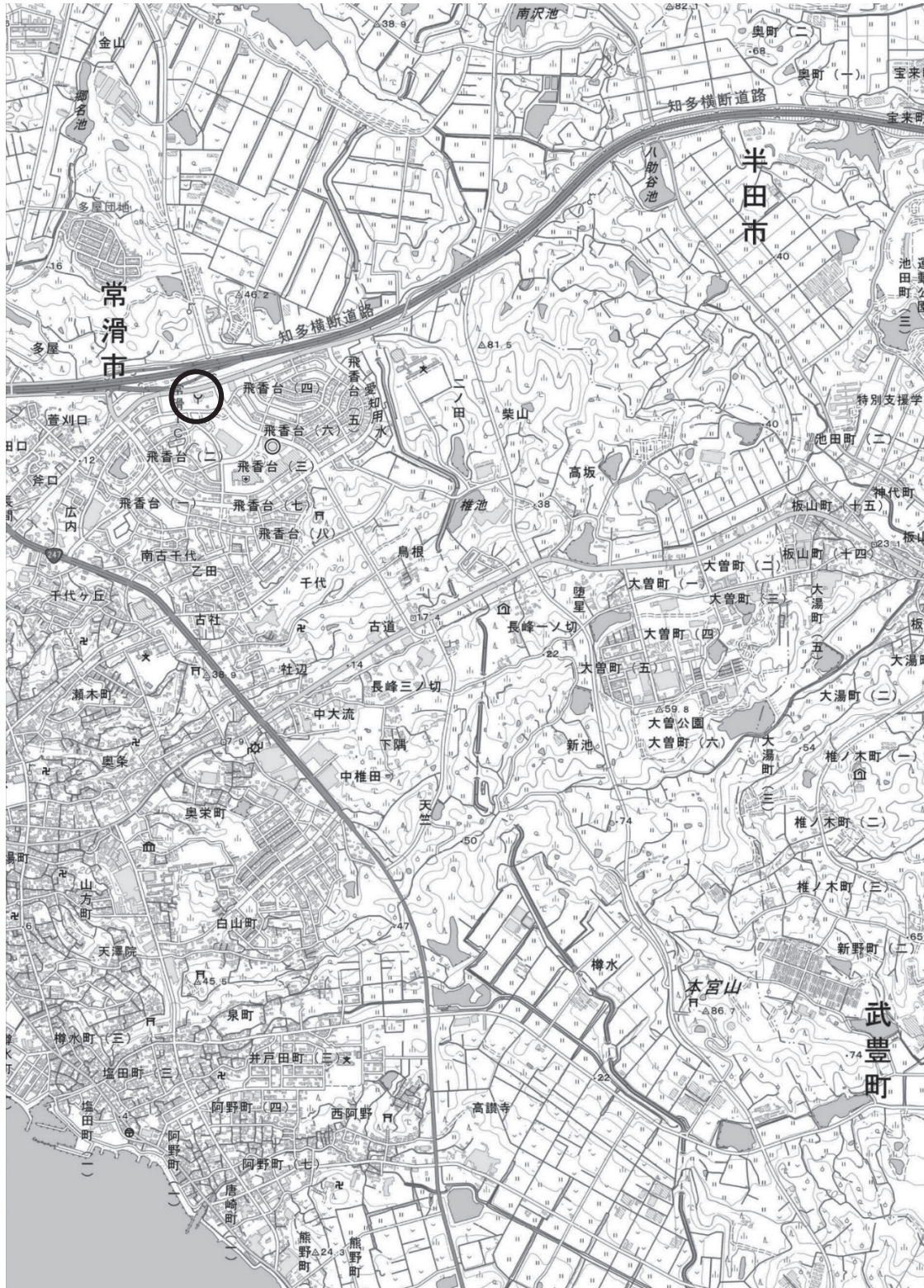
イ 自然災害により道路や鉄道などが断絶した時、代わりに被災地へ輸送をおこなうなど、救援活動の拠点となることができる。

ウ もともとの地盤じばんが弱く、さらに土砂の間に水分が多く含まれるため、地震によって地盤沈下が起こりやすくなる。

エ 建設費用は高額となるが、航空機の大型化や交通量の増大にともなって必要になる敷地しきちの拡張が容易である。

オ 墜落ついらく・離着陸の失敗などの航空事故が発生した際に、被害を最小限に抑えることができる。

問2 下線部②について、次の地図は、愛知県常滑市を表す2万5千分の1の地形図です。知多横断道路を南西に進むと、中部国際空港へたどり着きます。この地図を見て、あとの問いに答えなさい。



(国土地理院「地理院地図」より作成)

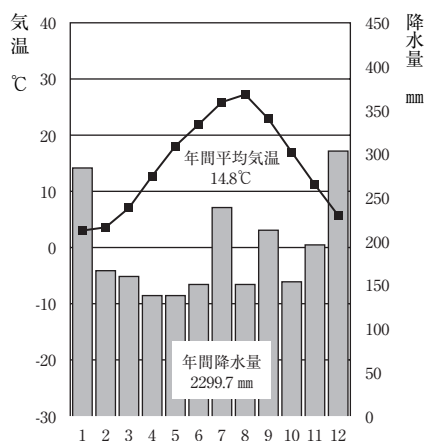
(1) 常滑市役所から常滑市消防本部（○印）まで，地形図上の距離を測ると1.8cmでした。実際の距離は何mですか。数字で答えなさい。

(2) 中央に通る愛知用水は，1961年に完成しました。この用水が開かれた理由とそれがもたらした効果を，地形図から読み取れることを参考に述べなさい。

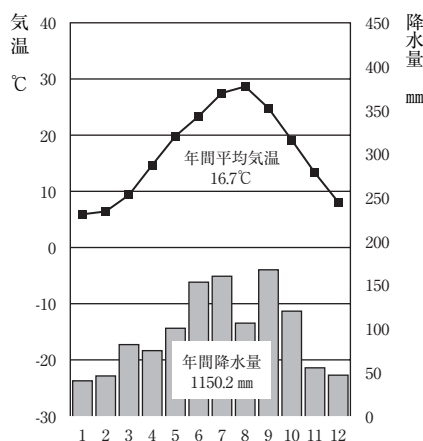
問3 下線部③について，中部地方で観測することができる雨温図を，【A群】のア～エから1つ選び，記号で答えなさい。また，その雨温図と最も関係がある文を，【B群】のカ～ケから1つ選びなさい。

【A群】

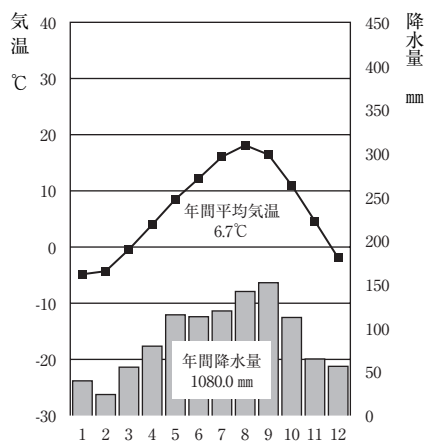
ア



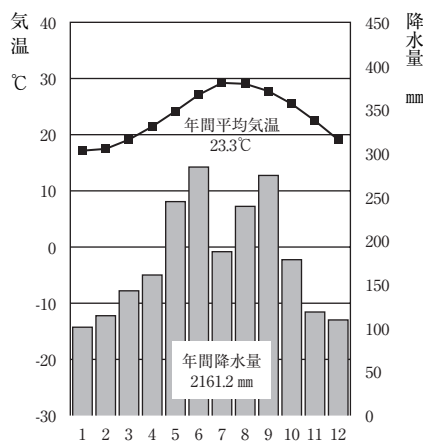
イ



ウ



エ




(「理科年表 2023 年」より作成)

【B群】


- カ 標高が高く、山に囲まれている。
- キ 夏の季節風の影響を受ける。
- ク 冬の季節風の影響を受ける。
- ケ 梅雨入りが早く、台風が多く通る。

問4 下線部④について、下の【グラフ1・2】は、名古屋港・神戸港・中部国際空港・成田国際空港・関西国際空港の輸出額・輸入額において、それぞれ主な品目が占める金額の割合（2020年）を示しています。このうち中部国際空港を表すものを、次のア～オから1つ選びなさい。

ただし、【グラフ1・2】のア～オの記号は、それぞれ同じ場所を指しています。



【グラフ2】 輸出



(「2023 データブック・オブ・ザ・ワールド」および「令和2年における愛知県内貿易港の輸出入動向」(公益財団法人あいち産業振興機構)より作成)

③ 次の年表を読んで、あとの問いに答えなさい。

世紀	日本のできごと
3	卑弥呼が邪馬台国を支配 (A)
8	平城京を造営 (B)
13	六波羅探題をおく (C)
17	徳川綱吉が将軍となる (D)
19	五箇条の御誓文が出される (E)
20	第二次世界大戦がおきる (F)

問1 年表中 (A) は弥生時代のできごとです。弥生時代について述べた文として正しいものを、次のア～エから1つ選びなさい。

- ア 表面に縄目の文様がついた土器が出土した。
- イ 稲の穂を刈り取るために使用された石包丁が出土した。
- ウ 文字やおおきみ大王の名を刻んだ鉄剣や鉄刀が出土した。
- エ 古代の東アジアにおいて墨で文字を書くために使われた木簡が出土した。

問2 年表中 (B) の時期、8世紀の文化について述べた文として正しいものを、次のア～エから1つ選びなさい。

- ア 中国から伝えられた水墨画が雪舟によって大成された。
- イ 豊かなめぐみを願って作られたと考えられる土偶が出土された。
- ウ 「蒙古襲来絵詞」には、元との戦いが描かれている。
- エ 東大寺の正倉院には聖武天皇の所持品などが収められている。

問3 本来は蝦夷征討のため朝廷から臨時に任ぜられた総指揮官を表す言葉であったが、年表中 (C) の時代に幕府の最高権力者を示すこととなった言葉を何というか。漢字5字で答えなさい。

問4 年表中 (D) の時代の文化について述べた文として誤っているものを、次のア～エから1つ選びなさい。

- ア 近松門左衛門が人形浄瑠璃や歌舞伎の脚本家として人気を博した。
- イ 北里柴三郎は当時、死者が多かった破傷風の治療法を発見した。
- ウ 杉田玄白らによってオランダ語の医学書が翻訳され、「解体新書」が出版された。
- エ この時代は上下の関係が重んじられ、儒学を学ぶことがすすめられた。

問5 年表中(E)の時期、日本は各分野で外国から技術者や学者を招き、先進技術や知識を教わりました。そして製糸、紡績、兵器製造などで国が運営する官営工場を開きました。これらの政策を一連して何というか。漢字4字で答えなさい。

問6 年表中(E)の時代に関する次の資料から読み取れることとして、下の文X・Yの正誤の組み合わせとして正しいものを、下のア～エから1つ選びなさい。

- 第1条 大日本帝国ハ万世一系ノ天皇之ヲ統治ス。
 第3条 天皇ハ神聖ニシテ侵スヘカラス。
 第4条 天皇ハ国ノ元首ニシテ統治権ヲ総攬シ此ノ憲法ノ条規ニ依リ之ヲ行フ。
 第5条 天皇ハ帝国議会ノ協賛ヲ以テ立法権ヲ行フ。
 第11条 天皇ハ陸海軍ヲ統帥ス。
 第29条 日本臣民ハ法律ノ範囲内ニ於テ言論著作印行集会及結社ノ自由ヲ有ス。

X 天皇は国家の元首であり、陸海軍を統帥している。

Y 日本国民はいかなる時でも自由を主張することができる。

ア X - 正 Y - 正 イ X - 正 Y - 誤

ウ X - 誤 Y - 正 エ X - 誤 Y - 誤

問7 年表中の(F)に関する文X・Yの正誤の組み合わせとして正しいものを、下のア～エから1つ選びなさい。

X 1939年、ポーランドがドイツを攻撃したことをきっかけに第二次世界大戦が始まった。

Y 1945年、ソ連が日ソ中立条約を無視して日本に宣戦布告した。

ア X - 正 Y - 正 イ X - 正 Y - 誤

ウ X - 誤 Y - 正 エ X - 誤 Y - 誤

問8 年表中の(F)について、戦時中の様子について述べた文として正しいものを、次のア～エから1つ選びなさい。

ア 農民が農具を工夫して改良したため、生産力が向上した。

イ 農民の団結が強まり、各村では自治支配が行われた。

ウ 国内で労働者不足になり、学生が兵器工場などで働くようになった。

エ 政府は各村で五人組という仕組みを作って統制した。

4 次の会話文を読んで、あとの問いに答えなさい。

アサミ 「今年の夏休みは、家族で①沖縄県に旅行へ行く予定なの！」

アキ 「へえー、それはすてきだね！沖縄といえば、先月“沖縄復帰 50 周年を祝う記念式典”が行われたとお父さんが言っていたよ。」

アサミ 「沖縄はどこに復帰したんだろう…？」

アキ 「たしかに…。先生に聞いてみようか。」

先生 「第二次世界大戦後に日本がGHQの占領下となったのは、この前の授業でやったよね。その後、1951年のサンフランシスコ平和条約を締結したことで日本は独立をしたんだ。ただ実は、沖縄などのいくつかの島は、引き続きアメリカの占領下におかれていたんだよ。」

アサミ 「そうだったんですね。知らなかったなあ。」

アキ 「その後、いつ沖縄は今の状態になったのですか？」

先生 「② 1971年に沖縄返還協定が結ばれて、1972年5月15日に協定が発効して沖縄が本土復帰を果たしたんだよ。」

アキ 「なるほど！50周年記念式典とは、そういうことだったんですね。」

アサミ 「沖縄ならではの特産品をたくさん食べたいなあ…。」

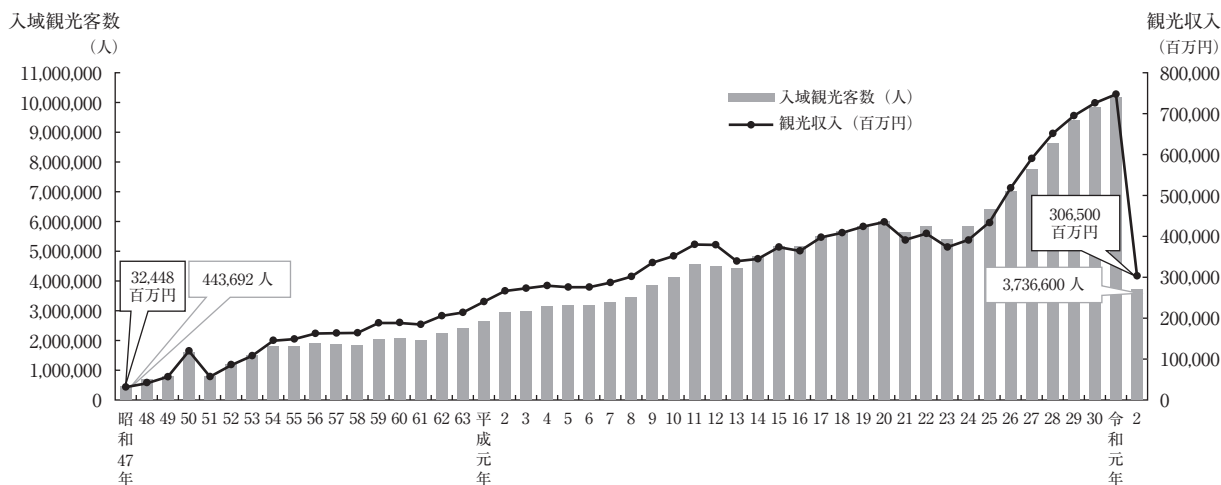
アキ 「楽しんできてね！」

【グラフ】

観光

資料：国土交通省「建設総合統計年度報」

入域観光客数・観光収入の推移(暦年)



(「R4 県勢要覧」より作成)

問1 下線部①の主力産業は、豊かな自然や特徴的な食べ物などの特色を生かした観光産業ですが、【グラフ】によると、令和2年度では沖縄を訪れる観光客が激減しています。その理由を簡潔に答えなさい。

問2 下線部②について、沖縄返還の交渉は「核抜き・本土並み」をキャッチフレーズに展開されたが、“本土並み”への改善案が含まれた文として誤っているものを、次のア～エから1つ選びなさい。

- ア 沖縄に駐留する米軍を即時撤退させること
- イ 安全保障条約を本土と同様に適用すること
- ウ 大幅な経済成長を果たしていた本土と同等の経済水準となるようにすること
- エ 教育格差を減らすこと

5 あとの問いに答えなさい。

問1 日本国憲法についてまとめた次の表の空欄（A）・（B）にあてはまる語句を、それぞれ答えなさい。

形式	国民が定める民定憲法
主権	（A）主権
天皇	日本国・国民統合の（B）
軍隊	戦争の放棄

問2 自由権について述べた文として誤っているものを、次のア～エから1つ選びなさい。

ア どのような状況においても、健康で文化的な最低限度の生活を営む権利が保障されている。

イ 現行犯の場合を除いて、裁判官の出す令状^{れいじょう}が無ければ逮捕されることはないとは保障されている。

ウ 何人も公共の福祉に反しない限り、居住・移転・職業選択をすることができるとは保障されている。

エ 自分で物事を考え意見を持つことや自分が希望する学問を修めることができると保障されている。

問3 三権分立に関連して、次の説明文X～Zにあてはまる機関A～Cの組み合わせとして正しいものを、次のア～カから1つ選びなさい。

X 社会で起きたさまざまな事件や不正などを、法律に基づいて公正に判定する。

Y 公共事業など、人々の生活に関わる様々な分野について担当する。

Z 法律の制定や予算の審議を担う。

A：国会 B：内閣 C：裁判所

ア X-A Y-B Z-C

イ X-A Y-C Z-B

ウ X-B Y-A Z-C

エ X-B Y-C Z-A

オ X-C Y-A Z-B

カ X-C Y-B Z-A

令和6年度 一般選抜学力検査 社会 解答用紙

清林館中学校

受検 番号	9	0	0				氏名	
----------	---	---	---	--	--	--	----	--

1	問1		問2		問3		問4	
	問5		問6		問7			
2	問1		問2 (1)					
	問2 (2)							
	問3 A		問3 B		問4			
3	問1		問2		問3		問4	
	問5				問6		問7	問8
4	問1							
	問2							
5	問1 A		問1 B		問2		問3	